




<p>مع1</p> <p><input type="checkbox"/></p> <p><input type="checkbox"/></p> <p><input type="checkbox"/></p>	<p>1. انتهت السنة الدراسية، ها هو غيلان و أخته تقوى يستعدان للذهاب للحقل لمساعدة أبيهما في خدمة الأرض و رعاية الحيوانات في الزريبة. هما يشاهدان الحيوانات من مدخل الحقل و قرب التربة. أربط الحيوان بنمط التثقل المناسب:</p> <div style="display: flex; justify-content: space-around; align-items: center;"> <div style="text-align: center;"> <p>يزحف .</p> <p>يطير .</p> <p>يسبح .</p> </div> <div style="text-align: center;">    </div> </div>
<p>مع2</p> <p><input type="checkbox"/></p> <p><input type="checkbox"/></p> <p><input type="checkbox"/></p>	<p>2. دخل الأخوان الحقل و استمتعا بمساعدة أبيهما كما فرحا كثيرا بولادة جدي صغير سيحملانه معهما للبيت لرعايته و السهر على نموه، أحضر غيلان صندوقا مغلقا ليضع الجدي داخله، ضحكت تقوى و قالت: "افتح الصندوق حرصا على سلامة الجدي الصغير".</p> <p>- أشطب الإجابة الخاطئة: كانت تقوى على حقّ صواب خطأ</p> <p>- أعلل إجابتي: أضع علامة أمام الإجابة الصحيحة: داخل الصندوق المغلق</p> <p><input type="checkbox"/> يتنفس الجدي بصفة عادية</p> <p><input type="checkbox"/> لا يستطيع التنفس بصفة عادية</p>

مع 3

3. في طريق العودة، اعترضهما معوّق يحرك كرسيه صعوداً ليدخل منزله، بعد قضاء يوم حافل بالعمل في مصنع القرية للصناعات التقليدية. تقدّم غيلان لهذا المعوّق و أمسك بالكرسي المتحرك و ساعده على الدّخول بكلّ سهولة، فشكره و دعا له بالنّجاح. أكتب " جَدْب" أو "دَفْع" في المكان المناسب:



سلط غيلان قوّة على الكرسيّ المتحرك.

رفعت تقوى الصنّوق قوّة

أغلق غيلان باب المنزل قوّة

مع 4

4. أخرجت تقوى الجدي من الصنّوق ففرّ هارباً. جرى غيلان فأمسك الجدي. أشطب الإجابة الخاطئة:

عاد غيلان و هو يتنفس بصفة عادية


عاد غيلان و هو يتنفس بسرعة

أعلل إجابتي

يتنفس غيلان بـ..... لأنه

جدول إسناد الأعداد

التمييز	معايير الحد الأدنى			مستويات التملك
	مع 4	مع 3	مع 2	
0	0	0	0	انعدام التملك
	1.5	1.5	2	دون التملك الأدنى
3	3	3	4	التملك الأدنى
5	4.5	4.5	6	التملك الأقصى



الاسم و اللقب: