

التمرين 1 : * أنجز العمليات التالية :

$$\begin{array}{r} 44000 \\ - 28800 \\ \hline = \end{array}$$


$$\begin{array}{r} 532 \quad 4 \\ \hline \end{array}$$

$$\begin{array}{r} 1800 \\ \times 16 \\ \hline = \end{array}$$

مع 2


التمرين 2 :

* أواصل رسم المستطيل أ ب ج د :




مع 4

* أواصل رسم المستطيل هـ ك ن ع



مع 5

* أتم رسم المربع س ص ع ل



التمرين 3 : * أعبر عن كل قيس بكتابة أخرى :

2 دكم = 17 و 30

7 دكغ = 2 دكغ + غ

1 هل = 45 + 55

مع 3

الوضعية 1 :

قال سامي: " أملك 30 د وأريد شراء ساعة يدوية بـ28 د وقارورة عطر بـ14 د لكن المبلغ الذي عندي لا يكفيني".

* ما قيمة المبلغ الذي ينقص سامي؟

.....
.....
.....
.....

مع 1

مع 5

الوضعية 2 :

يملك أحمد 3 صور كل منها في شكل مربع قيس ضلعه 50 سم. يريد إحاطة كل صورة بشريط لاصق.

* ما قيس طول الشريط اللاصق اللازم لهذه الصور؟

.....
.....
.....
.....

مع 1

مع 5

الوضعية 3 :

خصت إدارة المدرسة 60 د لشراء 6 مجموعات من القصص بـ15 د المجموعة الواحدة.

* ما قيمة المبلغ الذي ينقصها لشراء هذه القصص؟

.....
.....
.....
.....

مع 1

مع 5

التمرين عدد 1: - أنجز العمليات التالية :

$$\begin{array}{r} 37465 \\ - 4668 \\ \hline = \end{array}$$

$$\begin{array}{r} 368 \\ \times 205 \\ \hline = \end{array}$$

$$\begin{array}{r} 845 \\ 8 \\ \hline \end{array}$$

مع 2

التمرين عدد 2: أعبّر عن كل قيس بكتابة أخرى :

- قيس كمية من الحليب : 625 ل = هل و..... ل

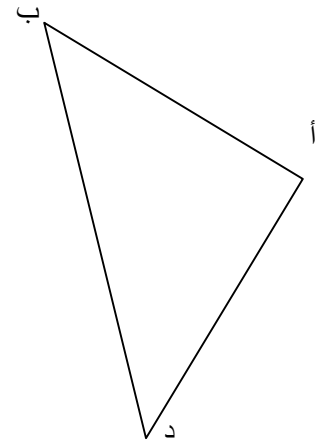
- قيس طول جسر: 207 م = هم و..... م

- كتلة سمكة : 270 غ = كغ و..... دكغ

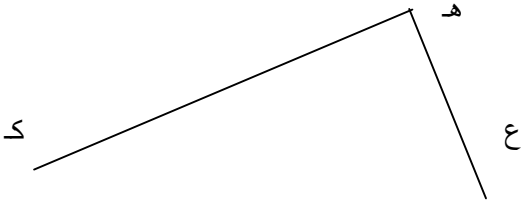
مع 3

التمرين عدد 3:

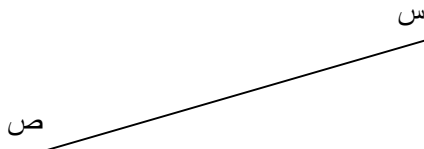
أ* أتم رسم المربع أ ب ج د



ب* أرسم المستقيم الذي يقسم هذا المستطيل إلى مربعين



ج* أرسم المستطيل س ص ع ن الذي قيس عرضه 3صم



مع 4

مع 5

الوضعية عدد 1 : هذه المعطيات حول معمل خياطة:

عدد السراويل التي أنتجتها العاملة في اليوم	عدد أيام العمل	عدد العاملات في المعمل
4	25	20

* ما عدد السراويل التي أنتجها المعمل خلال هذه المدة؟

.....

.....

.....

.....

مع 1

مع 5

الوضعية عدد 2 : اشترت أمي 4 كراسي وطاولة.

- ثمن الكرسي الواحد 30 د.

- ثمن الطاولة 80 د.

* ما ثمن مشتريات أمي؟

.....

.....

.....

.....

مع 1

مع 5

الوضعية عدد 3 : قامت سيدة بتقتير العطرشاء فتحصلت على 285 دسل من ماء العطرشاء.

ملأت من هذا الماء 30 قارورة سعة الواحدة 9 دسل.

* ما كمية ماء العطرشاء المتبقية لها؟

.....

.....

.....

.....

مع 1

مع 5

التمرين 1 : * أنجز العمليات التالية :

$$\begin{array}{r} 702 \\ 9 \overline{) } \\ \hline \end{array}$$

$$\begin{array}{r} 408 \\ \times 76 \\ \hline \\ \\ \hline = \end{array}$$

$$\begin{array}{r} 28730 \\ - 3835 \\ \hline \\ \\ \hline = \end{array}$$

مع 2

التمرين 2 : * أتم الفراغات المنقطعة بالأعداد المناسبة :

7 هم + 130 م + 15 دكم =م

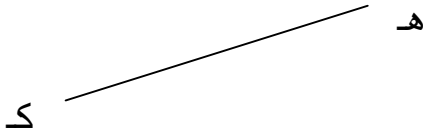
نصف كم + 3 دكم = 530

75م +دكم = 257 م


مع 3

التمرين 3 : (أ) أتم رسم كل شكل.

* المربع هـ ك ن ع




* المستطيل أ ب ج د



مع 4

مع 5

(ب) أرسم مستقيما س يقطع ضلعي المستطيل م أ ج ن لأحصل على مربع ومستطيل.



مع 4

مع 5

الوضعية 1 :

ادخر الأب 130 د شهريا لمدة 6 أشهر. أراد شراء حاسوب فأضاف إلى المبلغ المدخر 120 د.
* ما ثمن الحاسوب؟

.....
.....
.....
.....

مع 1

مع 5

الوضعية 2 :

بمناسبة عيد الشجرة اختارت بلديتنا 9 مناطق سكنية، وغرست في كل واحدة 50 شجيرة. وبعد مدة ماتت 28 شجيرة من جملة الشجيرات المغروسة.
* ما عدد الشجيرات التي نمت؟

.....
.....
.....
.....

مع 1

مع 5

الوضعية 3 :

أتأمل هذه المعطيات:

عدد أشجار البرتقال بحديقتنا	كمية السماد اللازمة للشجرة	ثمن الكغ الواحد من السماد
15	3 كغ	2 د

* ما عدد أكياس اللوز التي أنتجتها هذه الأشجار؟

.....
.....
.....
.....

مع 1

مع 5

التمرين عدد 1- أنجز العمليات التالية :

$$\begin{array}{r} 74598 \\ - 3795 \\ \hline = \end{array}$$

$$\begin{array}{r} 906 \\ \times 65 \\ \hline = \end{array}$$

$$\begin{array}{r} 784 \quad | \quad 7 \\ \hline \end{array}$$

مع 2

التمرين عدد 2- أعبّر عن كل قياس بكتابة أخرى :

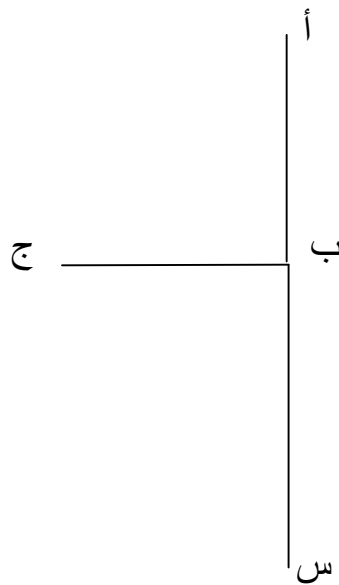
- قيس كتلة كمية من البرتقال : 17 هغ = كغ و غ
- قيس كمية من الزيت : 237 دكل = هل و ل
- قيس طول مسلك فلاحى : 900 م = كم و هم

مع 3

التمرين عدد 3* أتم رسم كل شكل

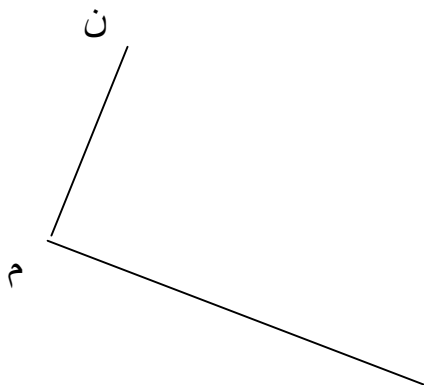
- المربع أ ب ج د

- المستطيل ب ج ص س



مع 4

ب* أتم رسم المستطيل ك م ن هـ



مع 5

الوضعية عدد 1 :

مع 1

لـفلاح 6 بقرات تستهلك كل واحدة في اليوم 5 كغ من العلف المركب.

* أبحث عن كتلة العلف الذي تستهلكه البقرات مدة 30 يوماً.

مع 5

.....
.....
.....
.....

الوضعية عدد 2 :

لـخياطة فستان. ذهبت أمي إلى السوق وبحافظة نقودها ورقة مالية من فئة 30 د
فاشتريت :

- قماشا بـ 17 500 مي.

- لوازم خياطة بـ 8 200 مي.

* ما قيمة المبلغ الذي صارت تملكه؟

مع 1

.....
.....
.....
.....

مع 5

الوضعية عدد 3 :

قال فلاح لـحريفه : « هذه 10 صناديق مملوءة بـرتقالا كتلتها الجمالية 250 كغ وكتلة
الصندوق الواحد فارغا 3 كغ .

* ما كتلة البرتقال الذي تسلمه الحريف؟

مع 1

.....
.....
.....
.....

مع 5